

Merhaba deęerli öęrenciler,

Çevrim içi bursluluk sınavımıza hoş geldiniz.

Öncelikle bu sayfada yer alan soruları bir kaęıda çözüünüz.

Daha sonra ise web sitemizde yer alan optięe işaretleme yapınız.

Sonuçlar web sitemizde yayınlanacaktır.

Cevap anahtarı da sonuçlarla birlikte yayınlanacaktır.

Gelecek hafta Salı günü aynı saatte yine deneme sınavı yapılacaktır.

TÜRKÇE TESTİ

1. Aşağıdaki cümlelerden hangisinde altı çizili kelime mecaz anlamda kullanılmıştır?

- A) Annem çürük meyveleri ayırmamı istedi.
- B) Aralarının çok gergin olduğunu anlamıştık.
- C) Kendine renkli kumaşlarla bir çanta dikmiş.
- D) Hava soğuk olduğu için kalın giyinmelisin.

2. “Bulmak” sözcüğü aşağıdaki cümlelerin hangisinde “bir şey icat etmek” anlamında kullanılmıştır?

- A) 1876 yılında Alexander Graham Bell telefonu bulmuş.
- B) Anahtarımı yatağımın yanındaki masanın altında buldum.
- C) Senin fikrini daha mantıklı bulacaklarına eminim.
- D) Bu sorunu nasıl çözeceğimi sonunda buldum.

3. Aşağıdaki cümlelerden hangisinde altı çizili sözcük terim anlamı değildir?

- A) Bu mahallede geniş bir daire bulmak zor görünüyor.
- B) Oyunun ikinci perdesinde bütün sorun çözüldü.
- C) Bronşit, akciğere giden hava yollarındaki zarariltihaplanmasıdır.
- D) Öğretmenimiz bu sözcüğün kökünü bulmamızı istedi.

4. Aşağıdaki cümlelerin hangisinde sebep ve sonuç bölümleri yanlış gösterilmiştir?

- A) Korkudan yüzü bembeyaz olmuştu.
Sebeup Sonuç
- B) Dışarı çıkamadım çünkü işlerim bitmedi.
Sebeup Sonuç
- C) Bayram yaklaştığı için bütün evi temizledi.
Sebeup Sonuç
- D) Lastiğimiz patladığı için geç kaldık.
Sebeup Sonuç

5. Barbaros benim en yakın arkadaşımdı. İş için şehir dışına yerleşti. Tabii aramıza uzaklık girince eskisi gibi rahat görüşemez olduk. Bu durum beni fazlasıyla üzdü. Neyse ki tatil için bir ay sonra buraya gelecek. Onun gelişini dört gözle bekliyorum. Ona anlatacak o kadar çok şey var ki...

Bu parçadaki altı çizili deyimın anlamı aşağıdakilerden hangisidir?

- A) Ayrıcalık tanımak
- B) Karşılıklı saygı göstermek
- C) Çok isteyerek ve özleyerek beklemek
- D) Önem vermemek, arka plana itmek

6. Alışkanlık, gelişim ve değişimin önündeki en büyük engellerden biridir. Alışık olduğumuz işleri farklı bir şekilde yapmak bizi çok zorlar. Eğer biz, bir şeyleri değiştirmek ve gelişime yelken açmak istiyorsak önce hayatımızın içinde bulunan işe yaramaz alışkanlıkları değiştirmeliyiz.

Bu parçada asıl anlatılmak istenen aşağıdakilerden hangisidir?

- A) Bazı alışkanlıklarımız, yapmamız gereken işleri kolaylaştırır.
- B) Gelişimin ve değişimin gerçekleşmesi için alışkanlıklarımıza sıkı sıkı bağlanmalıyız.
- C) Alışkanlıklarımızdan vazgeçmezsek asla başarılı bir hayat süremeyiz.
- D) Hayatımızda değişim ve gelişimi yaşamak için bazı alışkanlıklarımızı değiştirmeliyiz.

7. Aşağıdaki cümlelerin hangisinde -lık/-lik/-luk/-lük eki eklendiği sözcüğe farklı bir anlam katmıştır?

- A) ayakkabılık
- B) kitaplık
- C) mühendislik
- D) kömürlük

8. Eskişehir'in lületaşı çok ünlüdür. Lületaşı, gözenekli yapıda olan, kolay işlenebilen bir kayaç çeşididir. Eski zamanlardan bu yana takı ve süs eşyası yapımında kullanılır. Eskişehir'de dünyaca ünlü lületaşı madenleri vardır. Ayrıca kentteki Lületaşı Müzesi'nde lületaşından yapılmış birbirinden ilginç eserler sergilenir.

Bu parçada lületaşıyla ilgili aşağıdakilerden hangisine değnilmemiştir?

- A) Eskişehir'de çok ünlü olduğuna
- B) Takı ve süs eşyası yapımında kullanıldığına
- C) Eskişehir'den başka yerde bulunmadığına
- D) Gözenekli ve kolay işlenebilen bir yapıda olduğuna

9. Cahil ve bilgisiz kişi kendini beğenir, insanlara ve olaylara yüksekte bakar, büyük laflar eder ve gururlanır.

Parçada açıklaması yapılan atasözü aşağıdakilerden hangisidir?

- A) Sakla samanı gelir zamanı.
B) Boş başak dik durur.
C) Her horoz kendi çöplüğünde öter.
D) Üzüm üzüme baka baka kararır.

10. 1. Ne kadar zayıflamışsın, iğne kadar kalmışsın.
2. Yarışmadaki başarınız hepimizi gururlandırdı.

Numaralanmış cümlelerdeki anlatım özellikleriyle ilgili aşağıdakilerden hangisi doğrudur?

- | 1. cümle | 2. Cümle |
|---------------------|------------------|
| A) Duygusal Anlatım | Duygusal Anlatım |
| B) Duygusal Anlatım | Abartılı Anlatım |
| C) Abartılı Anlatım | Abartılı Anlatım |
| D) Abartılı Anlatım | Duygusal Anlatım |

11. Tam otların sarardığı zamanlar,
Yere yüzükoyun uzanıyorum.
Toprakta bir telaş, bir telaş...
Karıncalar öteden beri dostumdur.
Ellerime hanım böcekleri konuyor,
Ne şeker şey onlar!
Uç böcek uç diyorum.
Uçuyorlar.

Bu dizelerin şairi için aşağıdakilerden hangisi söylenebilir?

- A) Doğayla iç içe yaşayan biridir.
B) Yalnız yaşayan biridir.
C) Kent hayatını sevmemektedir.
D) Telaş içindedir.

12. (1) Isırgan otunun yaprak ve saplarından çorba, salata, yemek, börek ve köfte yapılabilir. (2) Isırgan otlulu pirinç pilavı da değişik yörelerde sevilerek yenen yemekler arasında yer alıyor. (3) Ayrıca bazı bölgelerde yapraklarından çay yapılıyor. (4) Bitkinin yaprak ve dallarında yakıcı tüyler bulunduğundan doğal ortamlarından toplarken ve ayıklanırken eldiven kullanılması tavsiye edilir.

Bu parçada numaralanmış cümlelerden hangisinde sözü edilen bitkinin olumsuz özelliği anlatılmıştır?

- A) 1 B) 2 C) 3 D) 4

13. Her yolu denedim (...) bir türlü başaramadım bu sorunu çözmeyi.

Bu cümlede yer alan boşluğa aşağıdaki kelimelerden hangisi getirilemez?

- A) çünkü B) ama
C) fakat D) lâkin

14. Gazete... okuduğum haber... siz... anlatmak istiyorum.

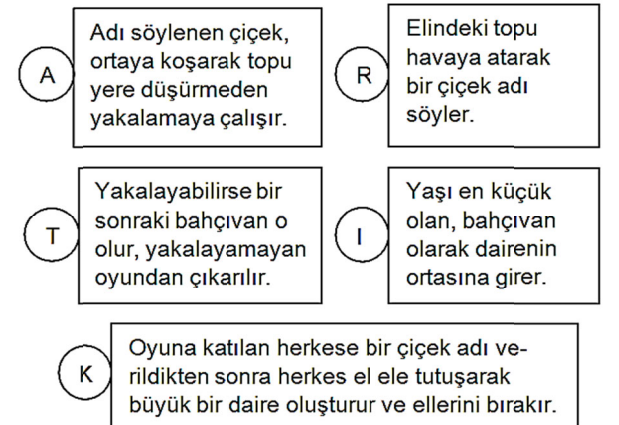
Yukarıdaki cümlede boş bırakılan yerlere sırasıyla gelmesi gereken hâl ekleri hangi seçenekte doğru verilmiştir?

- A) -(y)e, -de, -de B) -den, -de, -i
C) -i, -e, -de D) -de, -i, -e

15. Aşağıdaki cümlelerin hangisinde nokta (.) farklı bir işlevde kullanılmıştır?

- A) Doç. Dr. Bahattin Kahraman'ın konferansına katılacak mısınız?
B) Dün akşamki yağışın ardından okullar tatil edildi.
C) Sınıftaki öğrenciler meraklı bakışlarla öğretmeni süzüyordu.
D) Geldiğinden beri tek kelime etmemişti annesiyle.

16. ÇİÇEKLER VE BAHÇIVAN OYUNU



"A, I, K, R, T" harfleriyle ifade edilen her kutu "Çiçekler ve Bahçıvan Oyunu" nun bir aşamasını içermektedir.

Bu oyunun aşamaları doğru sıralandığında aşağıdaki sözcüklerden hangisi oluşur?

- A) ARTIK B) KIRAT
C) KATIR D) TARIK

17. Yaşlı – Siyah – Gece – Şişman – Yakın

U	E	T	K	E
Z	A	Y	I	F
A	G	E	N	Ç
K	A	B	N	G
B	E	Y	A	Z

Yukarıdaki sözcüklerden hangisinin zıt anlamı bulmacada yer almaz?

- A) Şişman
B) Gece
C) Yakın
D) Yaşlı

18. Ortalık ağarırken bir arkadaşıyla yorgun adımlarla konaktan çıktık.

Bu cümlede “çıkılmak” sözcüğünün cümleye kattığı anlam aşağıdakilerden hangisinde vardır?

- A) Bu görüşmemizden esaslı bir netice çıkmadı.
B) Sen onun karşısına çapkın bir adam gibi çıktın.
C) Beyefendi az önce şirketten çıktılar.
D) Fukaranın hem sağ bileği çıkmış hem davulu patlamış.

19. Gelişmiş ülkelerin okullarında çocuklara kahvaltı ve öğle yemeği verilmektedir. Ücretsiz olarak süt dağıtılmaktadır. Bu uygulamalar sayesinde okul çocuklarının dengeli beslenmeleri sağlanmaktadır.

Bu parçaya göre gelişmiş ülkelerde okul çocuklarına yemek verilmesinin amacı aşağıdakilerden hangisidir?

- A) Dengeli beslenmelerini sağlamak
B) Okulu sevdirmeye çalışmak
C) Ekonomik açıdan katkı yapmak
D) Zihinsel gelişimlerini desteklemek

20. “Kitaplar, insan hayatının tehlikeli denizlerinde bize yol gösteren pusulalardır.”

Bu cümlede anlatılmak istenene en yakın cümle aşağıdakilerden hangisidir?

- A) Her insan korkuyu yenmek için kitap okumalıdır.
B) Okuma alışkanlığı olmayan insanlar gelecekte başarılı olamazlar.
C) Kitapların insanlar için sayılamayacak kadar çok yararı vardır.
D) İnsanlar, en zor zamanlarında kendilerine yol gösteren kitaplar sayesinde avunur.

21. Yıllar önce bir ayakkabı şirketinin sahibi pazar araştırması yapmak üzere Afrika'ya aralıklı olarak iki pazarlamacı gönderdi. Birinci pazarlamacı araştırmasını bitirdikten sonra patronunu arayıp şöyle dedi: “Burada bizim için hiçbir fırsat yok çünkü hiç kimse ayakkabı giymiyor.” Birkaç ay sonra giden ikinci pazarlamacı ise patronunu arayıp heyecanla “Afrika’da inanılmaz fırsatlar var. Burada hiç kimsenin ayakkabısı yok!” dedi. Ayakkabı satışlarını başlatarak büyük başarı kazandı.

Bu hikâyenin unsurları aşağıdakilerin hangisinde doğru verilmiştir?

	Olay	Yer	Zaman	Şahıslar
A)	Ayakkabı satışındaki zorluklar	Afrika	Yıllar önce	Şirket sahibi
B)	Ayakkabı pazarının olmayışı	Afrika	Geniş zaman	Şirket sahibi ve pazarlamacı
C)	Ayakkabı satışı	Şirket	Yıllar önce	İki pazarlamacı
D)	Ayakkabı satışı için pazar araştırması	Afrika	Yıllar önce	Şirket sahibi ve iki pazarlamacı

22. (1) Balta girmemiş ormanlardan birine bir adam gelmiş. (2) Onu gören iki ağaç hüngür hüngür ağlamaya başlamış. (3) Onların bu hâlini gören yaşlı bir ağaç “Neden ağlıyorsunuz?” diye sormuş. (4) Ağlayan ağaçlar “Artık sonumuz geldi. İnsan denen canlı hepimizi kesecek.” demiş.

Numaralandırılmış cümlelerden hangisi gerçek hayattan alınmıştır?

- A) 1
B) 2
C) 3
D) 4

23. Aşağıdaki cümlelerden hangisi öznel bir anlatım içermektedir?

- A) Maden ocağında kurtarılan işçiler hastaneye kaldırıldı.
B) İstanbul’da yağın kar trafiği olumsuz etkiledi.
C) ODTÜ’lü öğrencilerin muhteşem buluşu güne damga vurdu.
D) Hafta sonu yağmurlu bir hava bekleniyor.

24. Bu yol bizim evin önünden geçiyor.

Bu cümledeki “yol” sözcüğünün sesteşi aşağıdakilerin hangisinde kullanılmıştır?

- A) Çıkmadan önce yol hazırlığı yaptık.
B) Köyler arasında toprak yollar vardı.
C) Bahçedeki otları yol, ağacın altına topladık.
D) Şoför, yolda oynayan çocukları uyardı.

25. 1. omuzlarında
2. çalışkan
3. yükselir
4. vatan
5. insanların

Yukarıda numaralanmış sözcüklerle anlamlı ve kurallı bir cümle oluşturulduğunda sıralama aşağıdakilerden hangisi gibi olmalıdır?

- A) 4 - 3 - 5 - 1 - 2 B) 2 - 5 - 1 - 3 - 4
C) 4 - 2 - 5 - 1 - 3 D) 5 - 1 - 3 - 2 - 4

MATEMATİK TESTİ

1. 17×34 işleminin sonucu kaçtır?

- A) 578 B) 588 C) 598 D) 608

2.

$$\begin{array}{r|l} \text{AAAA} & \text{AA} \\ \hline & \end{array}$$

Yukarıdaki bölme işleminde bölüm kaçtır?

- A) 10 B) 11
C) 101 D) 1001

3.
$$\begin{array}{r} 755 \\ - 196 \\ \hline \end{array}$$

Yukarıdaki çıkarma işleminin sonucu kaçtır?

- A) 539 B) 559 C) 639 D) 649

4. 128 507 492 doğal sayısındaki 2 rakamlarının basamak değerleri toplamı aşağıdakilerden hangisidir?

- A) 22 B) 202
C) 20 000 002 D) 200 000 002

5. $10 - 14 - 11 - 15 - 12 - \dots - 13$

Yukarıdaki örüntüde '.....' yerine aşağıdaki hangi sayı gelmelidir?

- A) 15 B) 16 C) 17 D) 18

6. Bir balıkçı tuttuğu hamsileri kasalara dolduruyor. 18 kg alan kasalardan 213 tane, 12 kg alan kasalardan 300 tane kullandığına göre, bu balıkçı kaç kilogram hamsi tutmuştur?

- A) 3600 B) 3834
C) 7434 D) 14 868

7.

$$\begin{array}{r} 1463 \\ + 25\blacksquare4 \\ \hline \triangle 037 \end{array}$$

Verilen toplama işlemine göre $\blacksquare + \triangle$ işleminin sonucu aşağıdakilerden hangisidir?

- A) 12 B) 11 C) 10 D) 9

8. $5 \times (55 - 11)$ işleminin sonucu kaçtır?

- A) 250 B) 220
C) 180 D) 25

9. Bir doğal sayının karesine eşit olan sayılara karesel sayılar denir.

Buna göre, aşağıdakilerden hangisi karesel sayı değildir?

- A) 25 B) 36 C) 42 D) 49

10. $\frac{3}{8} + \frac{1}{2}$ işleminin sonucu kaçtır?

- A) $\frac{2}{3}$ B) $\frac{3}{4}$ C) $\frac{6}{8}$ D) $\frac{7}{8}$

11. Raziye: "240 TL param vardı ve $\frac{5}{8}$ 'ini harcadım."
Ajdanur: "Buna göre, geriye TL paran kaldı."

Yukarıdaki diyaloga göre, boş bırakılan yere aşağıdakilerden hangisi yazılabilir?

- A) 120 B) 95 C) 90 D) 85

12. Aşağıdakilerden hangisi doğrudur?

- A) $\frac{13}{3} > 3$ B) $\frac{15}{7} > 7$
C) $4 < \frac{14}{5}$ D) $3 < \frac{7}{8}$

13. $\frac{21}{14}$ kesrinin en sade hali aşağıdakilerden hangisidir?

- A) $\frac{1}{4}$ B) $\frac{3}{2}$ C) $\frac{3}{7}$ D) $\frac{1}{14}$

14. $\frac{7}{c+2} = \frac{42}{30}$ ise C yerine kaç yazılmalıdır?

- A) 1 B) 2 C) 3 D) 4

15. Bir tekstil atölyesi 32 liraya ürettiği kıyafeti 70 liraya satmaktadır. Bu işin sonunda 1596 lira kâr edildiğine göre, kaç kıyafet üretilmiştir?

- A) 42 B) 43 C) 44 D) 46

- 16.

1	2	3	4	5	6	7	8
6	12		24		36		48

Yukarıdaki örüntüde her kutu içindeki sayı üstteki sayıdan bir kurala göre elde edilmiştir.

Buna göre, boş bırakılan yerlerdeki sayıları bulmak için üstteki sayılara aşağıdaki işlemlerden hangisi yapılmalıdır?

- A) 5 ekleme B) 5 ile çarpma
C) 6 ekleme D) 6 ile çarpma

17. Onlar basamağı 8, onda birler basamağı 5, yüzde birler basamağı 2, binde birler basamağı 4 olan ondalık kesir aşağıdakilerden hangisidir?

- A) 28,504 B) 208,504
C) 80,524 D) 280,504

18. "On üç tam binde üç yüz doksan altı" ondalık kesrindeki 9 rakamı hangi basamaktadır?

- A) Birler B) onda birler
C) Yüzde birler D) Binde birler

19. $72 + 23 + 28 + 47 + 16$ toplama işleminin sonucunu zihinden bulmaya çalışan birisi aşağıdaki gruplamalardan hangisini yaparsa sonucu daha kolay bulur?

- A) $(72 + 47) + (23 + 28) + 16$
B) $(16 + 47) + (72 + 28) + 23$
C) $(16 + 47) + (23 + 72) + 28$
D) $(72 + 28) + (23 + 47) + 16$

20. Bir koleksiyon atölyesinde 28 bayan işçi, 12 erkek işçi çalışmaktadır. Her bir bayanın maaşı 8000 TL, her bir erkek işçinin maaşı 8500 TL'dir. Buna göre, fabrikada çalışan işçilere bir ayda ödenen maaş kaç TL'dir?

- A) 326 000 B) 324 000
C) 322 000 D) 320 000

21. $a = 5,02$ $b = 5,3$ $c = 3,418$ $d = 7,1$

Yukarıda verilen ondalık kesirlerin küçükten büyüğe doğru sıralanışı aşağıdakilerden hangisidir?

- A) $d < b < a < c$ B) $c < a < b < d$
C) $d < a < b < c$ D) $c < b < a < d$

22. Ali 1 paket fıındığın $\frac{1}{5}$ 'ini Şerife'ye, $\frac{3}{5}$ 'ünü Sude'ye veriyor. Geri kalan 18 fıındığı da kendisi yediğine göre bir pakette kaç tane fıındık vardır?

- A) 60 B) 72 C) 90 D) 100

23. Rakamları birbirinden farklı en büyük beş basamaklı doğal sayıdan hangi sayı çıkarılırsa sonuç 91073 olur?

- A) 6692 B) 6792 C) 7692 D) 7792

24. Merve: "Nihal'in cevizlerinin sayısı benim cevizlerimin sayısından 200 fazladır."


Murat: "Merve'nin cevizlerinin sayısı da benim cevizlerimin sayısından 80 fazladır."

Nihal: "Benim 310 tane cevizim var."

Buna göre, üçünün toplam kaç cevizidir?

- A) 420 B) 450 C) 480 D) 510

25.



Yukarıdaki sayı doğrusunda 6 ile 7 arası on eş parçaya ayrılmıştır.

Buna göre, E noktasına karşılık gelen kesir aşağıdakilerden hangisidir?

- A) $6\frac{3}{10}$ B) $6\frac{1}{5}$ C) $6\frac{2}{5}$ D) $6\frac{7}{10}$

FEN BİLİMLERİ TESTİ

1. Ay'ın hareketleri ile ilgili aşağıdaki ifadelerden hangisi yanlıştır?

- A) Ay kendi eksenini etrafında dönme hareketi yapar.
B) Ay dünyanın etrafında dolanma hareketi yapar.
C) Ay yılın belli dönemlerinde hareketine devam ederken, belli dönemlerinde ise tamamen hareketsiz kalır.
D) Ay Dünya'nın etrafında yaklaşık 27 günde dolanır.

2. Ay ve Dünya'nın Güneş'in etrafında bir turu ne kadar süredir?

- A) 1 Gün B) 1 Hafta
C) 1 Yıl D) 1 Saat

3. I. Yoğurt, peynir, sirke ve turşu gibi besinlerin yapılmasını sağlar.
II. Evcil hayvanların mamalarının yapımında kullanılır.
III. Topraktaki canlı atıklarının çürütmesine yardımcı olur.

Yukarıdakilerden hangileri mikroskopik canlıların faydalarındandır?

- A) Yalnız I. B) Yalnız II.
C) I ve III. D) I, II ve III.

4.



Deniz topu



Ceviz



Fındık

Yukarıdaki cisimler büyüklükleri bakımından Ay, Dünya ve Güneş'ten birini temsil etmektedir.

Buna göre, bu cisimlerle gök cisimleri hangi seçenekte doğru olarak eşleştirilmiştir?

	Deniz topu	Ceviz	Fındık
A)	Güneş	Ay	Dünya
B)	Ay	Dünya	Güneş
C)	Güneş	Dünya	Ay
D)	Dünya	Güneş	Ay

5. Mehmet Öğretmen öğrencilerinden Güneş ile Dünya'nın büyüklüklerini kıyaslayacak bir cümle kurmalarını istiyor.

Buna göre hangi cümle doğru bir kıyaslama içerir?

- A) Güneş bir köy ise Dünya bir şehirdir.
B) Güneş bir portakal ise Dünya bir karpuzdur.
C) Güneş bir tenis topu ise Dünya bir basketbol topudur.
D) Güneş bir futbol topu ise Dünya bir pirinç tanesidir

6. – Karada yaşarlar.
– Derileri pullarla kaplıdır.
– Yumurta ile çoğalırlar.
– Yavrularını sütle beslerler.
– Vücutları tüylerle kaplıdır.

Verilen özelliklerden kaç tanesi sürüngenlere ait bir özelliktir?

- A) 1 B) 2 C) 3 D) 4

7. Sabah ve öğlen, Güneş neden aynı yerde değildir?

- A) Dünya, Ay'ın etrafında dolandığı için
- B) Güneş, Dünya'nın etrafında dolandığı için
- C) Dünya kendi etrafında döndüğü için
- D) Güneş kendi etrafında döndüğü için

8. Kaynama sıcaklığı ile ilgili aşağıdakilerden hangisi yanlıştır?

- A) Sıvılar için ayırt edici bir özelliktir.
- B) Madde miktarına bağlıdır.
- C) Kaynama süresince değişmez.
- D) Basınca bağlı olarak değişir.

9. Aşağıdakilerden hangisinde temas gerektiren kuvvete örnek vardır?

- A) Rüzgârın saçımızı savurması
- B) Mıknatısın demir teli çekmesi
- C) Elmanın yere düşmesi
- D) Tarağın kâğıdı çekmesi.

10.



Yukarıdaki kavram haritasında I ve II numaralı kutucuklara aşağıdakilerden hangisi yazılabilir?

- A) I – Domates ve II – Portakal
- B) I – Çilek ve II – Kibrit otu
- C) I – Karanfil ve II – Limon
- D) I – Atkuyruğu ve II – Domates

11. Seralarda özel olarak yetiştirilen ve besin olarak tüketilen mantar çeşidi aşağıdakilerden hangisidir?

- A) Küf
- B) Şapkalı
- C) Sap
- D) Kültür

12. Aşağıdakilerden hangisi yaprağın görevleri arasında değildir?

- A) Solunum yapmak
- B) Besin üretmek
- C) Topraktan mineralleri almak
- D) Terleme yapmak

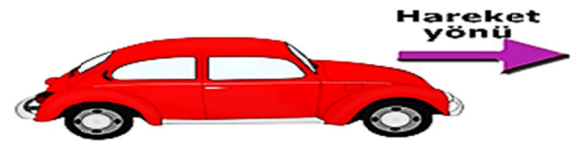
13. Aşağıdaki canlılardan hangisini ancak mikroskop yardımıyla görebiliriz?

- A) Bakteri
- B) Şapkalı mantar
- C) Kara yosunu
- D) Solucan

14. Aşağıdaki olaylardan hangisinde temas gerektiren bir kuvvet uygulanmamaktadır?

- A) topa vururken
- B) ağaçtan elma düşerken
- C) masayı iterken
- D) çekmeceyi açarken

15.



Serhat evinde oyuncak arabası ile oynamaktadır. Arabanın hareket yönü yukarıda gösterilmiştir.

Bu arabaya etki eden sürtünme kuvvetinin yönü aşağıdakilerden hangisinde verilmiştir?

- A)
- B)
- C)
- D)

16. Berat: "Güneş'in de tıpkı Dünya gibi katmanları vardır."

Hamza: "Güneş'ten yayılan enerjinin tamamı Dünya'ya ulaşır."

Serdar: "Güneş'in şekli küreseldir."

Ali Eren: "Güneş'in Dünya'ya uzaklığı yaklaşık 150 milyon km'dir."

Yukarıdaki öğrencilerden hangisi Güneş'in özellikleri ile ilgili yanlış bir bilgi vermiştir?

- A) Berat
- B) Hamza
- C) Serdar
- D) Ali Eren

17. Aşağıdakilerden hangisi mantar çeşitlerinden birisi değildir?

- A) Küf Mantarı B) Maya Mantarı
C) Hamur Mantarı D) Şapkalı Mantar

18. Dünyamız kendi çevresinde batıdan doğuya doğru döner. Kendi çevresinde doğudan batıya doğru dönseydi güneş hangi yönde doğardı?

- A) Doğu B) Güney
C) Kuzey D) Batı

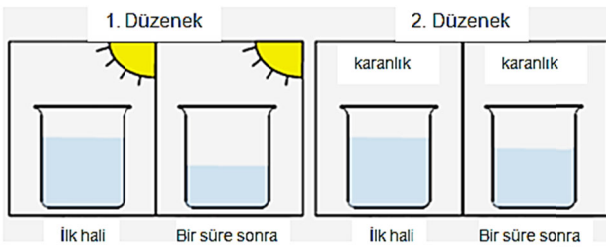
19. I. Sürüngen -----Timsah
II. Omurgasız ----- Salyangoz
III. Omurgasız ----- Tavuk

Yukarıda canlılarla ilgili eşleştirmeler verilmiştir.

Buna göre, aşağıdakilerden hangileri doğrudur?

- A) I, II ve III. B) I ve II.
C) II ve III. D) Yalnız I.

20. Elif özdeş iki kaba I. şekildeki gibi eşit miktarda su koyduktan sonra kaplardan birini güneş olan ortama diğerini karanlık ortama koyuyor. Bir süre beledikten sonra kaplardaki su seviyesini II. Şekildeki gibi olduğunu görüyor.



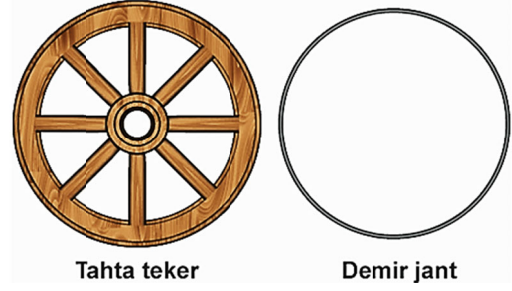
Elif bu deneyde aşağıdakilerden hangisini incelemektedir?

- A) Hal değişimine ısının etkisini
B) Hacim ve hal değişimi ilişkisini
C) Sıcaklık ve donma ilişkisini
D) Hal değişimine kütlenin etkisini

21. Bitkinin aldığı su ve besini yapraklara ileten ve aynı zamanda bitkiye desteklik sağlayan kısım hangisidir?

- A) kök B) gövde C) yaprak D) çiçek

22. Bir teker ustası yaptığı tahta teker etrafına demir jant geçirmek istiyor. Fakat demir jant daha küçük olduğu için tahta tekerin etrafına geçmiyor.



Teker ustası demir jantı tahta tekerin etrafına geçirebilmek için aşağıdakilerden hangisini yapmalıdır?

- A) Demir jantı soğutmalıdır.
B) Demir jantı ısıtmalıdır.
C) Tahta tekeri ısıtmalıdır.
D) Tahta tekeri ısıtıp demir jantı soğutmalıdır.

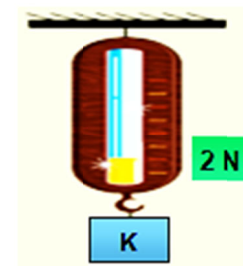
23. Aşağıdaki yüzeylerin hangisinde sürtünme kuvveti en azdır?

- A) buz B) toprak C) tahta D) halı

24. Isı alışverişi ile ilgili aşağıda verilenlerden hangisi yanlıştır?

- A) Sıcaklıkları farklı olan maddeler arasında gerçekleşir.
B) Isı akışı soğuk maddeden sıcak maddeye doğru gerçekleşir.
C) Isı alışverişi sıcaklıklar eşitleninceye kadar devam eder.
D) Sıcaklıkları eşit olan maddeler arasında ısı alışverişi gerçekleşmez.

25.



Yukarıdaki dinamometreye 3 tane K cismi daha asılırsa, dinamometre kaç Newton'u gösterir?

- A) 4 N B) 5 N C) 6 N D) 8 N

SOSYAL BİLGİLER TESTİ

1. – Ders içeriği gereği sınıfta gerekli bilgileri öğrencilere vermek.
– Otel duvarlarını boyamak
– Yönetmekte olduğu trenle insanların ulaşımını sağlamak.

Yukarıda belirtilen sorumluluklar aşağıda verilen rollerle eşleştirildiğinde hangi seçenekteki rol dışta kalır?

- A) Boyacı
B) Öğretmen
C) Makinist
D) Şoför

2. I. Verimli ovalar
II. Madencilik ve endüstrinin geliştiği yerler
III. Ticaret ve turizmin canlı olduğu yerler

Yukarıdakilerden hangileri yurdumuzda nüfusun yoğun olduğu yerlerdir?

- A) I ve II.
B) I ve III.
C) II ve III.
D) I, II ve III.

3. **Kültürel değerlerimiz hakkında aşağıda verilen bilgilerden hangisi yanlıştır?**

- A) Milli kültürümüz, geçmişten günümüze birikerek gelmiştir.
B) Ailemizden, yakın çevremizden görerek gelecek nesillere aktarırız.
C) Milli kültürümüz kuşaktan kuşağa aktarılmadan kendiliğinden devam eder.
D) Kültürel değerlerimizi daha iyi bilmek ve öğrenmek için araştırmalar yapmalıyız.

4. I. Hititler çivi yazısı ve resim yazısı (hiyeroglif) kullanmışlardır.
II. Tarihte ilk kez parayı Frigler kullanmışlardır.
III. Urartular site adı verilen şehir devletlerinde yaşamışlardır.
IV. İyonlar saban kırana, tarım arazisine zarar verene çok ağır cezalar verdiler.
V. Lidyalılar ticareti geliştirmek amacıyla kral yolunu kurdular.
VI. Hititler tarihteki ilk yazılı antlaşmayı Mısır ile imzaladılar.

Yukarıda verilen bilgilerden hangileri yanlıştır?

- A) II, III ve IV.
B) I, II ve III.
C) III, IV ve V.
D) I, IV ve V.

5. Gelenek ve görenekler toplumda birlik ve beraberliğin; huzur ve barış ortamının oluşmasında, sürdürülebilmesinde de etkilidir.

Aşağıdaki verilen örneklerden hangisi Türk kültürüne ait bir unsur değildir?

- A) Yeni doğan bebeği görmeye gitme
B) Asker uğurlama
C) Hasta ziyaret etme
D) Okullar arası beyzbol turnuvası

6.



Van Kalesi, yaklaşık 2850 yıl önce, Anadolu uygarlıklarından Urartular tarafından yapılan bir mekândır. Van Kalesi, Van Gölü kıyısındaki sarp kayalıklar üzerine inşa edilmiştir. Kale, uzun yıllar Osmanlı Devleti'nin önemli üslerinden biri olmuştur.

Yukarıda Van Kalesi ile ilgili verilen bilgilere göre, aşağıdakilerden hangisi yanlıştır?

- A) Van Kalesi, doğal bir eserdir.
B) Güvenlik amaçlı yapılmıştır.
C) İlkçağdan kalma tarihi bir mekândır.
D) Osmanlı devleti de kaleyi askeri amaçlı kullanmıştır.

7. **Aşağıdakilerden hangisi topluma karşı olan sorumluluklarımızdan birisi değildir?**

- A) Çevreyi temiz tutmak
B) Oy kullanmak
C) Ödevlerimizi zamanında yapmak
D) Alışverişlerde fiş almak

8. – Akarsular tarafından derin yarılmamış, çevresine göre alçakta olan geniş düzlüktür.
– Karalardaki çukurlarda birikmiş durgun sulardır.
– Akarsuyun yatağını aşındırarak oluşturduğu yer-yüzü şeklindedir.

Yukarıdaki verilen tanımlar arasında aşağıdaki coğrafi kavramlardan hangisi yoktur?

- A) Dağ
B) Göl
C) Vadi
D) Ova

9. Aşağıdakilerden hangisi çocuk haklarından biri değildir?

- A) Çocuğun bütün isteklerinin karşılanması hakkı
- B) Eğitim hakkı
- C) Barınma Hakkı
- D) Çocuğun sağlığının korunması hakkı

10.



Yukarıdaki Türkiye haritasında, taranarak gösterilmiş kaç numaralı yerin, karakteristik bitki örtüsünü makilik alanlar oluşturmaz?

- A) 4
- B) 3
- C) 2
- D) 1

11. Aşağıdakilerden hangisi doğal afetin zararlarından değildir?

- A) Can ve mal kaybı
- B) Salgın hastalıklar
- C) Yükseltinin artışı
- D) Ulaşımında aksama

12. "Kişinin kendi davranışlarının sonuçlarını üstlenmesi sorumluluktur."

Buna göre, aşağıdakilerden hangisi sorumluluktur?

- A) Okuldaki araç – gereçlerden yararlanmak
- B) Yaşamak
- C) Okulda eğitim – öğrenim görmek
- D) Ödevlerini zamanında yapmak

13. Aşağıdakilerden hangisi doğal zenginliklerimizden değildir?

- A) Pamukkale Travertenleri
- B) Peribacaları
- C) Efes Harabeleri
- D) Ölüdeniz

14. İlk Çağ'da,

- Kızılırmak Deltasında yaşayan Hititlerde tarım,
- Ege kıyı şeridinde yaşayan İonyalılar'da deniz ticareti,
- İç Batı Anadolu'da yaşayan Lidyalılarda kara ticareti gelişmiştir.

Bu bilgilere göre;

- I. Geçim kaynakları, yaşanılan bölgenin coğrafi özellikleriyle yakından ilgilidir.
- II. İlk Çağ'da ticaret en önemli geçim kaynağıdır.
- III. Toplumlar birbirleriyle ilişki içerisinde.

yargılarından hangilerine ulaşılabilir?

- A) I.
- B) II.
- C) III.
- D) II ve III.

15. Ben, Fatih Ortaokulu 5. sınıf öğrencisiyim. Annem, babam, dedem ve kardeşimle beraber yaşıyorum."

İsmet, yukarıdaki bilgileri vermiştir. Metne göre aşağıdakilerden hangisi İsmet'in üstlendiği rollerden biri değildir?

- A) Abi
- B) Öğrenci
- C) Sınıf başkanlığı
- D) Torun

16. Esra 11 yaşındadır. Aşağıdakilerden hangisi Esra'nın haklarından biri değildir?

- A) İyi bir eğitim görmek
- B) Seçimlerde oy kullanmak
- C) İyi beslenmek
- D) Okul tesislerinden yararlanma

17.



Haritada numaralandırılarak verilen alanlarda burada görülen afetler, aşağıdakilerden hangisinde doğru eşleştirilmiştir?

- | I | II | III |
|------------------|---------------|---------|
| A) orman yangını | deprem | heyelan |
| B) deprem | orman yangını | heyelan |
| C) orman yangını | heyelan | deprem |
| D) heyelan | orman yangını | deprem |

18. Aşağıdakilerden hangisi çocuk olarak temel haklarımızdan biri olamaz?

- A) Araba kullanma
- B) Konut dokunulmazlığı
- C) Eğitim hakkı
- D) Özel yaşamın gizliliği

19. Tarım toplumu olan Friglerin en büyük tanrısı toprak ve bereket tanrıçası 'Kibele'dir. Savaşçı bir toplum olan Urartuların en büyük tanrıları savaş tanrısı 'Haldi'dir.

Bu bilgilere göre, İlk Çağ Anadolu toplumları için aşağıdakilerden hangisi söylenebilir?

- A) Ekonomilerin temeli tarıma dayanır.
- B) Sürekli savaş halindedirler.
- C) Toplumların yaşam tarzları, dini inanışları etkilmiştir.
- D) Dinin toplum üzerindeki etkisi azalmıştır

20. Türkler başkalarının düşüncelerine saygı gösterir. Herkesi kendisi gibi düşünmeye, kendisi gibi davranmaya zorlamaz. Bu, Türk milletinin hangi özelliğidir?

- A) hoşgörülü olmak
- B) çalışkanlık
- C) doğruluk
- D) yardım severlik

DİN KÜLTÜRÜ VE AHLAK BİLGİSİ DERSİNİ OKUYANLAR AŞAĞIDAKİ SORULARI CEVAPLAYACAKTIR.

21. Orucu açmak için akşam vakti girince yenilen yemeğe ne ad verilir?

- A) Akşam
- B) İftar
- C) Sahur
- D) Gece

22. – Ramazan ayında yapılan bir ibadettir.
– İmsak vaktinden iftar vaktine kadar yeme ve içmeden uzak durmaktır.

Tanımı yapılan bu ibadet hangisidir?

- A) Zekat
- B) Namaz
- C) Oruç
- D) Hac

23. İhlas Suresi'nde geçen "Allahüs samed" ayetinde geçen "samed" kelimesinin anlamı nedir?

- A) Allah vardır ve tektir.
- B) Allah'ın bir öncesi yoktur.
- C) Allah hiçbir şeye muhtaç değildir.
- D) Allah her şeyi bilir.

24. I. Yüce Allah'ın her şeyi bilmesi anlamına gelir.
II. Yüce Allah'ın her şeyi görmesi anlamına gelir.
III. Yüce Allah'ın her şeyi işitmesi anlamına gelir.

Yukarıda verilenlerin ilgili olduğu kavramlar aşağıdakilerden hangisinde doğru sıralanmıştır?

I	II	III
A) İlim	Basar	Kudret
B) Kudret	Semi	Basar
C) Vahdaniyet	Semi	İlim
D) İlim	Basar	Semi

25. Allah'ın bir ve tek olduğunu ifade eden zati sıfatı aşağıdakilerden hangisidir?

- A) Vahdaniyet
- B) Kıdem
- C) Beka
- D) Hayat

DİN KÜLTÜRÜ VE AHLAK BİLGİSİ DERSİNİ OKUMAYANLAR AŞAĞIDAKİ SORULARI CEVAPLAYACAKTIR.

21. Karadeniz Bölgesi'ne ait aşağıdaki özelliklerden hangisinin oluşumunda bölgede görülen iklimin etkisi yoktur?

- A) Çay üretilen tek bölge olmasında
- B) Taşkömürü yataklarının yer almasında
- C) Heyelan olaylarının sık yaşanmasında
- D) Gür ve sık orman örtüsüne sahip olmasında

22. Konya'da her yıl 17 Aralık'ta Şeb-i Arus törenleri düzenlenerek anılan büyük düşünür ve şair, aşağıdakilerden hangisidir?

- A) Hacı Bektaşî Veli
- B) Yunus Emre
- C) Mevlana Celaleddin Rumi
- D) Şems-İ Tebrizi

23. Fiziki Haritalarda renkler yükselteleri gösterir.

Buna göre;

* Ova gibi deniz seviyesindeki yerler1..... renk ile gösterilir.

* Orta yükseklikte olan plato gibi yerler2..... renk ile gösterilir.

* Dağlık ve yüksek yerler3..... renk ile gösterilir.

Yukarıdaki cümlelerde, numaralandırılmış yerlerin renklerle doğru eşleştirilmesi hangisidir?

- | | | |
|------------------|----------------|---------------------|
| A) <u>1</u> Sarı | <u>2</u> Yeşil | <u>3</u> Kahverengi |
| B) Kahverengi | Sarı | Yeşil |
| C) Yeşil | Sarı | Kahverengi |
| D) Sarı | Kahverengi | Yeşil |

24. Nihat, yaşadığı bölgeyi arkadaşlarına tanıtırken aşağıdaki ipuçlarını vermiştir:

- Çok fazla yükseltiye sahip değildir.
- Yüzölçümü en küçük olan bölgemizdir.
- Doğal bir göl yoktur.

Verilen bilgilere göre Nihat, hangi coğrafi bölgemizde yaşamaktadır?

- A) Karadeniz Bölgesi
- B) Doğu Anadolu Bölgesi
- C) İç Anadolu Bölgesi
- D) Güneydoğu Anadolu Bölgesi

25. Dila: “Elif, dünyada insanların hiç yaşamadığı yerler var mı?”

Elif: “Tabi ki hayır.”

Dila: “Gel birlikte düşünelim. Ulaşımı zor, çok sıcak veya çok soğuk yerlerde yaşamak ister miydin?”

Elif: “O zaman nerelerde yaşamak daha kolaydır Dila?”

Dila:”.....”

Yukarıdaki diyaloga göre Dila, aşağıdakilerden hangisini söylerse soruyu doğru cevaplamış olur?

- A) Verimli düzlüklerde
- B) Dağların zirvesinde
- C) Kızgın çöllerde
- D) Kışın çok kar yağan yerlerde

**TESTLER BİTTİ.
CEVAPLARINIZI KONTROL EDİNİZ.**